

Miejsce  
na naklejkę  
z kodem


KOD UCZNI

--	--	--


(Wpisuje uczeń)


**PRÓBNY SPRAWDZIAN  
W SZÓSTEJ KLASIE SZKOŁY PODSTAWOWEJ  
„Wycieczka”**

**Informacje dla ucznia:**

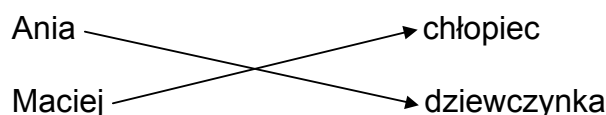
- Sprawdź, czy arkusz egzaminacyjny zawiera 11 stron. Ewentualny brak zgłoś przewodniczącemu zespołu nadzorującego.
- Czytaj uważnie wszystkie teksty i zadania.
- Wszystkie zadania rozwiąż długopisem lub piórem.
- Pisz czytelnie i starannie.
- Gdy przy zadaniu jest taki znak  to wybierz jedną dobrą odpowiedź i zaznacz wybrany kwadrat, np.:

- A.   
B.   
C.   
D.

- Gdy przy zadaniu jest taki znak  to sam napisz odpowiedź w miejscu kresek. Pomyłki przekreślaj.

- Gdy przy zadaniu jest taki znak  to musisz policzyć. Obliczenia i wynik zapisz w miejscu kratek.


- Gdy przy zadaniu jest taki znak  to połącz strzałkami dobre odpowiedzi, np.:



- Na wykonanie wszystkich zadań masz 60 minut (czas można przedłużyć - nie więcej niż o 30 minut).
- Za dobre rozwiązanie wszystkich zadań uzyskasz 40 punktów.

(Wpisuje egzaminator)

KOD EGZAMINATORA									
---------------------	--	--	--	--	--	--	--	--	--

**Powodzenia!**

**Tekst:**

***Klasa VI pojedzie w maju na wycieczkę do dużego miasta. Dzieci pojadą pociągiem. Będą oglądać zabytki. Wszyscy chcą zobaczyć pomnik króla, który był bardzo dobry i odważny.***

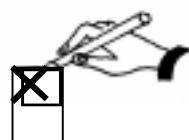
**Zadanie 1. Przeczytaj tekst i zaznacz dobrą odpowiedź.**



Klasa VI pojedzie na wycieczkę w:

- A.  lipcu,
- B.  maju,
- C.  kwietniu,
- D.  czerwcu.

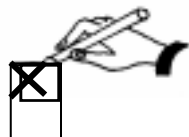
**Zadanie 2. Przeczytaj tekst i zaznacz dobrą odpowiedź.**



Klasa VI pojedzie na wycieczkę:

- A.  autobusem,
- B.  pociągiem,
- C.  samolotem,
- D.  tramwajem.

**Zadanie 3. Przeczytaj tekst i zaznacz dobrą odpowiedź.**

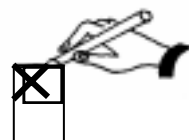


Dzieci będą oglądać na wycieczce:

- A.  cyrk,
- B.  teatr,
- C.  zoo,
- D.  zabytki.

**Zadanie 4. Tomek chce wiedzieć, gdzie jest miasto, do którego pojedzie na wycieczkę. Powinien to sprawdzić w:**

**Zaznacz dobrą odpowiedź.**



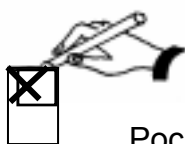
- A.  atlasie geograficznym,
- B.  podręczniku do języka polskiego,
- C.  podręczniku do matematyki,
- D.  atlasie grzybów.

## Rozkład jazdy pociągów

POZNAŃ

Godzina odjazdu	Peron	Rodzaj i numer pociągu	Przyjazdy do stacji pośrednich i docelowych
5.50	4	28201	Szamotuły 6.13 – Wronki 6.27 – Krzyż 6.52 – Stargard Szczeciński 8.08 – SZCZECIN 8.49
6.00	4a	EX 7700 WIELKOPOLANIN	Leszno 6.40 – Wrocław 7.44 – Opole Gł. 8.46 – Katowice 10.05 – Kraków Gł. 11.20 – Tarnów 12.20 – PRZEMYŚL 14.20
6.10	5	44232	Poznań Dębiec 6.16 – Słeszew 6.43 – Grodzisk Wlkp. 7.17 – WOLSZTYN 7.55

**Zadanie 5.** Odszukaj w rozkładzie jazdy, o której odjeżdża pociąg do Szczecina.

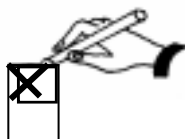


**Zaznacz dobrą odpowiedź.**

Pociąg z Poznania do Szczecina odjeżdża o godzinie:


- A.  5.50
- B.  6.10
- C.  6.00
- D.  8.49

**Zadanie 6.** Pociąg odjeżdża z Poznania o godzinie 6.00, przyjeżdża do Krakowa o godzinie 11.20. **Oblicz**, jak długo jedzie pociąg z Poznania do Krakowa.

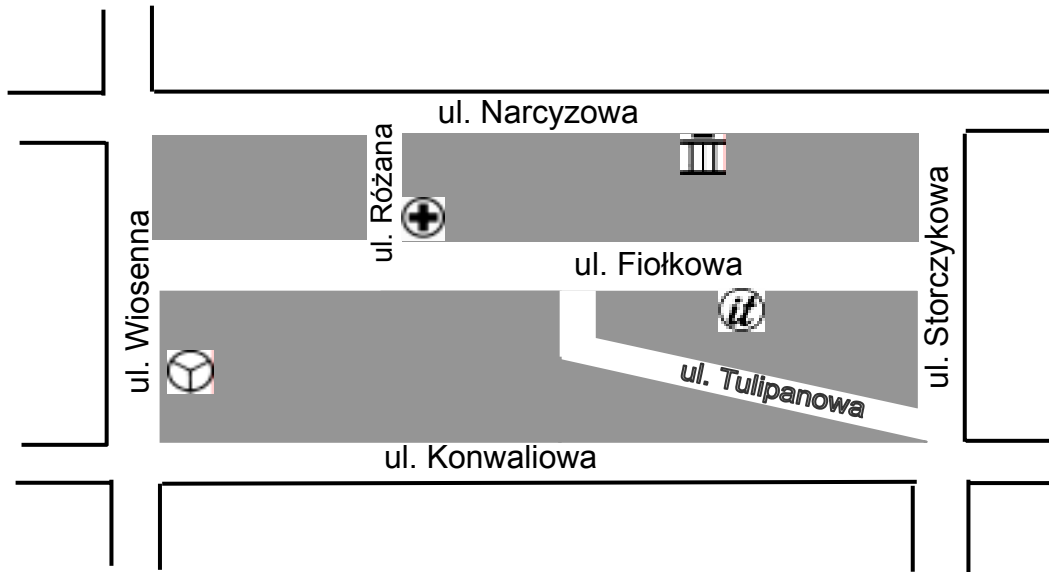


**Zaznacz dobrą odpowiedź.**

- A.  4 h 20 min
- B.  5 h 20 min
- C.  5 h 40 min
- D.  6 h 40 min



## Fragment planu miasta



**dworzec autobusowy**



**muzeum**




**informacja**



**szpital**

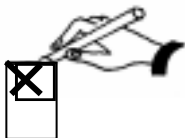
**Zadanie 7. Odczytaj z planu miasta i zaznacz dobrą odpowiedź.**

Przy ulicy Narcyzowej znajduje się:



- A.  informacja turystyczna,
- B.  dworzec autobusowy,
- C.  szpital,
- D.  muzeum .

**Zadanie 8. Odczytaj z planu miasta i zaznacz dobrą odpowiedź.**



Która z ulic jest równoległa do ulicy Konwaliowej?

- A.  ul. Wiosenna,
- B.  ul. Tulipanowa,
- C.  ul. Różana,
- D.  ul. Narcyzowa.

**Zadanie 9.** Na planie miasta mogą być różne znaki.



**Połącz strzałką znak z odpowiednią nazwą.**



parking



poczta

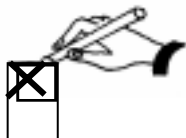


hotel



kościół

**Zadanie 10.** Które dziecko prawidłowo przechodzi przez ulicę?

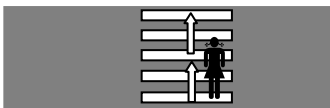


**Zaznacz dobrą odpowiedź.**

A.



B.



C.



D.



## Mapa Polski



Zadanie 11. Wpisz do odpowiednich tabel nazwy z mapy Polski.



Miasta
<i>Warszawa</i>
.....
.....
.....
.....

Zabytki
<i>Syrenka</i>
.....
.....
.....
.....


Rzeki
<i>Wisła</i>
.....
.....
.....
.....

**Przeczytaj tekst:**

*Uczniowie klasy VI wykonali rysunki. Teraz je oglądają i rozmawiają:*


- *Na moim rysunku są domy na Starym Rynku – mówi Aneta.*
- *Na moim jest rzeka i most! – woła Monika.*
- *A na moim są mury obronne – mówi Tomek.*
- *Ja narysowałem pomnik króla – mówi Jacek.*

**Zadanie 12. Wpisz imię dziecka pod rysunkiem, który wykonało.**



To rysunek .....

To rysunek .....



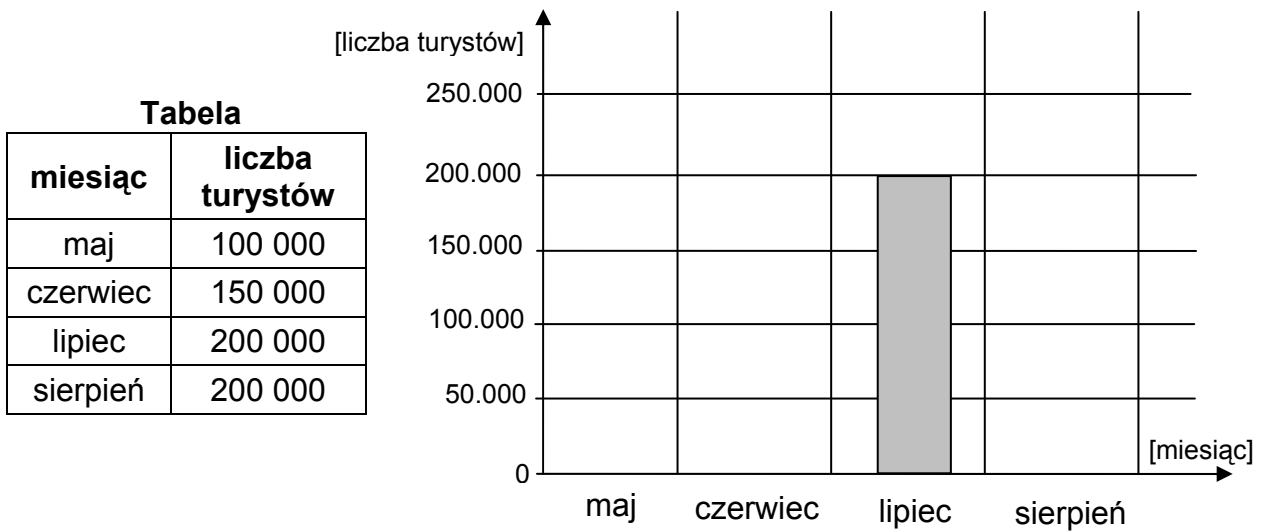
To rysunek .....

To rysunek .....

**Zadanie 13.** W ciągu roku wielu turystów zwiedza zabytki.



Wykorzystaj informacje z tabeli i narysuj brakujące słupki.



Oto kilka **wydarzeń** z historii Polski.

1830 r. – <i>powstanie listopadowe</i>	966 r. – <i>chrzest Polski</i>
1939 r. – <i>wybuch II wojny światowej</i>	1410 r. – <i>bitwa pod Grunwaldem</i>
1364 r. – <i>powstanie Akademii Krakowskiej</i>	

**Zadanie 14.** Bitwa pod Grunwaldem odbyła się w 1410 roku. Który to wiek?



Zakresuj odpowiednią kratkę na osi czasu.

wiek	X	XI	XII	XIII	XIV	XV	XVI	XVII	XVIII	XIX	XX	
------	---	----	-----	------	-----	----	-----	------	-------	-----	----	--

**Zadanie 15.** Wydarzenia podane w ramce **uporządkuj i wpisz** po kolei od najdawniejszego.



1.	<i>chrzest Polski</i>
2.	
3.	
4.	
5.	



**Zadanie 16.** Monika rozmawia z Tomkiem o wycieczce.



**Napisz, jakie pytania zadał Tomek.**



.....

*Rano byłam na rynku.*



.....

*Na rynku widziałam kościół.*



.....

*Kościół był stary.*



**Zadanie 17.** Ułóż plan dnia wycieczki.

Możesz wykorzystać potrzebne informacje z ramek.

Zwiedzanie muzeum.

Kolacja.

Śniadanie.

Obiad.

Kąpiel w morzu.

Strojenie choinki.

Spacer po Rynku.



**Napisz plan dnia.**

8.00 .....

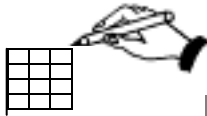
10.00 .....

14.00 .....

16.00 .....

18.00 .....

**Zadanie 18.** Monika kupiła 9 pocztówek po 2 zł 60 gr. Ile zapłaciła Monika za pocztówki?

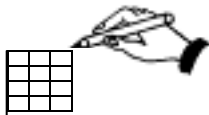


**Zapisz obliczenia.**




Odpowiedź: Monika zapłaciła ..... zł.

**Zadanie 19.** Tomek kupił plan miasta za 7 zł 80 gr, widokówkę za 3 zł 50 gr i breloczek za 4 zł 60 gr. Ile zapłacił Tomek za zakupy?

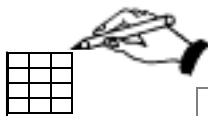


**Zapisz obliczenia.**




Odpowiedź: Tomek zapłacił ..... zł.

**Zadanie 20.** Aneta miała 20 zł. Kupiła bilet do kina za 8 zł, lody za 2 zł 50 gr i pocztówkę za 2 zł 60. Ile pieniędzy zostało Anecie?



**Zapisz obliczenia.**




Odpowiedź: Anecie zostało ..... zł.

--	--	--

**Miejsce na naklejkę  
z kodem**

**WYPEŁNIA  
ZESPÓŁ NADZORUJĄCY**

A	<input type="checkbox"/>	K	<input type="checkbox"/>	W	<input type="checkbox"/>	0	<input type="checkbox"/>	0	<input type="checkbox"/>
B	<input type="checkbox"/>	L	<input type="checkbox"/>	X	<input type="checkbox"/>	1	<input type="checkbox"/>	1	<input type="checkbox"/>
C	<input type="checkbox"/>	M	<input type="checkbox"/>	Y	<input type="checkbox"/>	2	<input type="checkbox"/>	2	<input type="checkbox"/>
D	<input type="checkbox"/>	N	<input type="checkbox"/>	Z	<input type="checkbox"/>	3	<input type="checkbox"/>	3	<input type="checkbox"/>
E	<input type="checkbox"/>	O	<input type="checkbox"/>	1	<input type="checkbox"/>	4	<input type="checkbox"/>	4	<input type="checkbox"/>
F	<input type="checkbox"/>	P	<input type="checkbox"/>	2	<input type="checkbox"/>	5	<input type="checkbox"/>	5	<input type="checkbox"/>
G	<input type="checkbox"/>	R	<input type="checkbox"/>	3	<input type="checkbox"/>	6	<input type="checkbox"/>	6	<input type="checkbox"/>
H	<input type="checkbox"/>	S	<input type="checkbox"/>	4	<input type="checkbox"/>	7	<input type="checkbox"/>	7	<input type="checkbox"/>
I	<input type="checkbox"/>	T	<input type="checkbox"/>	5	<input type="checkbox"/>	8	<input type="checkbox"/>	8	<input type="checkbox"/>
J	<input type="checkbox"/>	U	<input type="checkbox"/>	6	<input type="checkbox"/>	9	<input type="checkbox"/>	9	<input type="checkbox"/>

**WYPEŁNIA EGZAMINATOR**

Nr zad.	Liczba punktów				
	0	1	2	3	4
1	<input type="checkbox"/>	<input type="checkbox"/>			
2	<input type="checkbox"/>	<input type="checkbox"/>			
3	<input type="checkbox"/>	<input type="checkbox"/>			
4	<input type="checkbox"/>	<input type="checkbox"/>			
5	<input type="checkbox"/>	<input type="checkbox"/>			
6	<input type="checkbox"/>	<input type="checkbox"/>			
7	<input type="checkbox"/>	<input type="checkbox"/>			
8	<input type="checkbox"/>	<input type="checkbox"/>			
9	<input type="checkbox"/>	<input type="checkbox"/>	<input type="checkbox"/>		
10	<input type="checkbox"/>	<input type="checkbox"/>			
11	<input type="checkbox"/>	<input type="checkbox"/>	<input type="checkbox"/>	<input type="checkbox"/>	
12	<input type="checkbox"/>	<input type="checkbox"/>	<input type="checkbox"/>	<input type="checkbox"/>	<input type="checkbox"/>
13	<input type="checkbox"/>	<input type="checkbox"/>	<input type="checkbox"/>	<input type="checkbox"/>	

Nr zad.	Nr kryt.	Liczba punktów			
		0	1	2	3
14		<input type="checkbox"/>	<input type="checkbox"/>		
15		<input type="checkbox"/>	<input type="checkbox"/>	<input type="checkbox"/>	
16	I	<input type="checkbox"/>	<input type="checkbox"/>	<input type="checkbox"/>	<input type="checkbox"/>
	II	<input type="checkbox"/>	<input type="checkbox"/>	<input type="checkbox"/>	
	III	<input type="checkbox"/>	<input type="checkbox"/>		
17	I	<input type="checkbox"/>	<input type="checkbox"/>	<input type="checkbox"/>	
	II	<input type="checkbox"/>	<input type="checkbox"/>		
18	I	<input type="checkbox"/>	<input type="checkbox"/>		
	II	<input type="checkbox"/>	<input type="checkbox"/>		
19	I	<input type="checkbox"/>	<input type="checkbox"/>		
	II	<input type="checkbox"/>	<input type="checkbox"/>		
20	I	<input type="checkbox"/>	<input type="checkbox"/>		
	II	<input type="checkbox"/>	<input type="checkbox"/>	<input type="checkbox"/>	

**KOD EGZAMINATORA**

--	--	--	--	--	--	--	--	--	--

**SUMA PUNKTÓW  
ZA 20 ZADAŃ**

--	--

0	1	2	3	4					
<input type="checkbox"/>	<input type="checkbox"/>	<input type="checkbox"/>	<input type="checkbox"/>	<input type="checkbox"/>					
0	1	2	3	4	5	6	7	8	9
<input type="checkbox"/>	<input type="checkbox"/>	<input type="checkbox"/>	<input type="checkbox"/>	<input type="checkbox"/>	<input type="checkbox"/>	<input type="checkbox"/>	<input type="checkbox"/>	<input type="checkbox"/>	<input type="checkbox"/>

.....  
Czytelny podpis egzaminatora